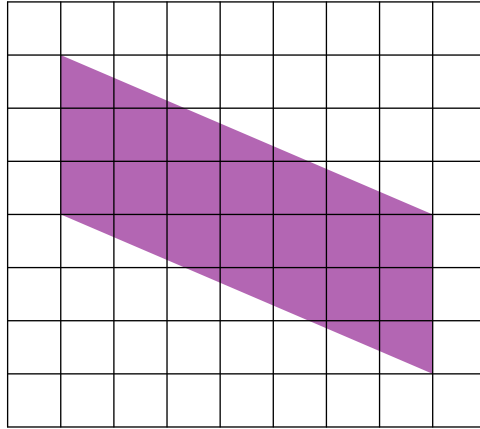
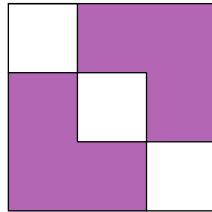


Задание 20. На клетчатой бумаге со стороной клеточки 1 см изображен параллелограмм. Найдите его площадь.




Ответ: _____

Задание 21. На рисунке изображен квадрат и в нем три квадрата со стороной 4 см. Найдите площадь большого квадрата.



Решение:



Ответ: _____